



月 日 曜日

今日の調子は



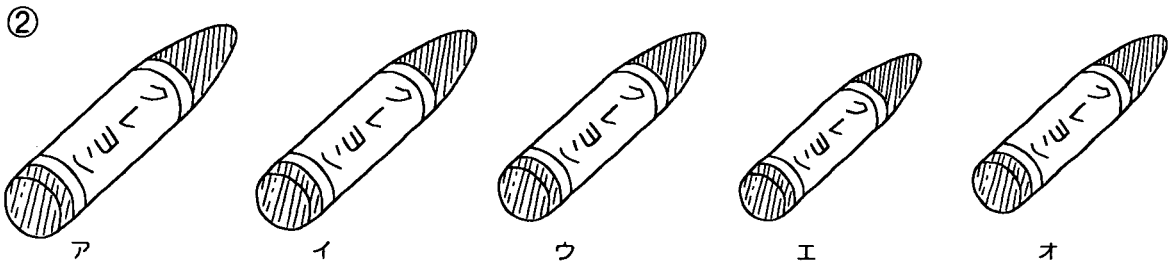

制限時間



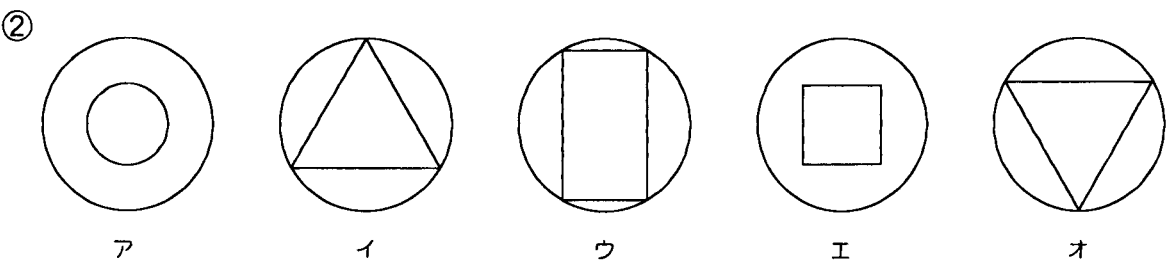
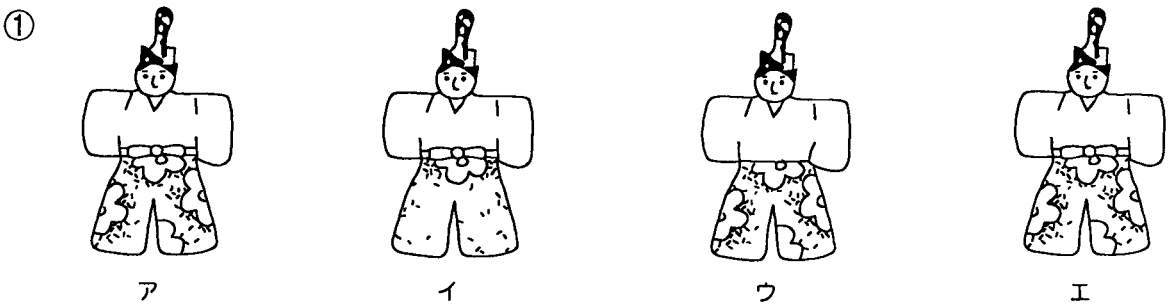
7分間

眼を大きく開いて、できるだけ広い範囲を見よう

① 2番目に大きいものはどれ？




② 同じものはどれとどれ？



頭の中で動かしたり、変化させたりしてみよう

① どれの影?



ア

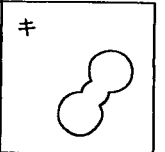
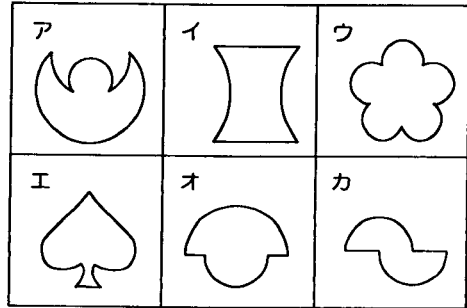



イ



ウ

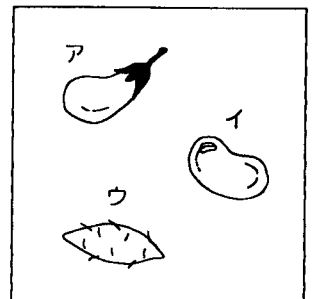
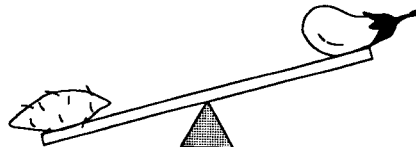
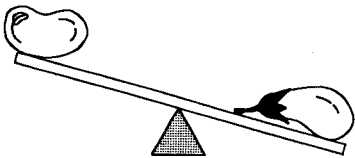
② どれとどれが重なってる?



③ かがみ うつ 鏡に映すとどれ?



④ 1番重いのはどれ?





月 日 曜日

制限時間



いろんな角度から見たり、見えないきまりを発見したりしよう

① 積み木の数はいくつ？

①

②

③

④

⑤

⑥

⑦

⑧

② 上から見るとどれ？

① → ア イ ウ エ

② → ア イ ウ エ



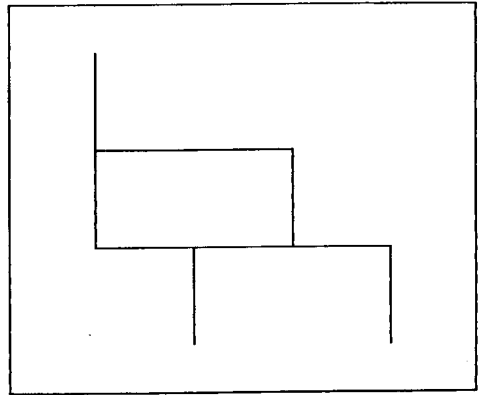
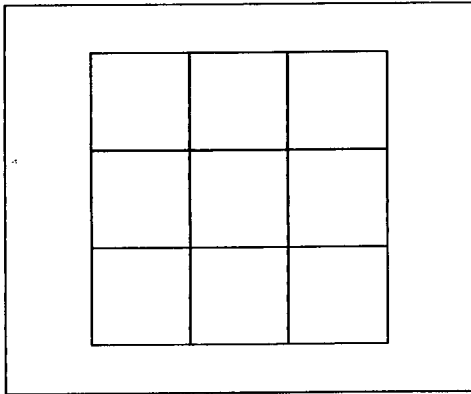
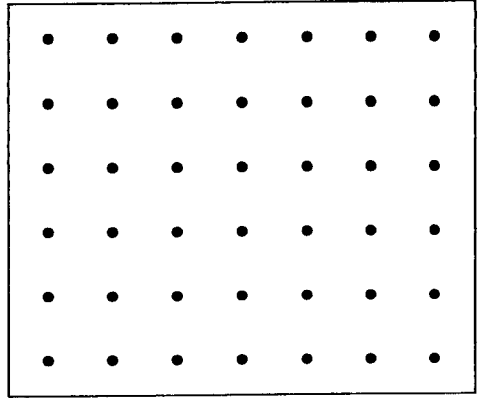
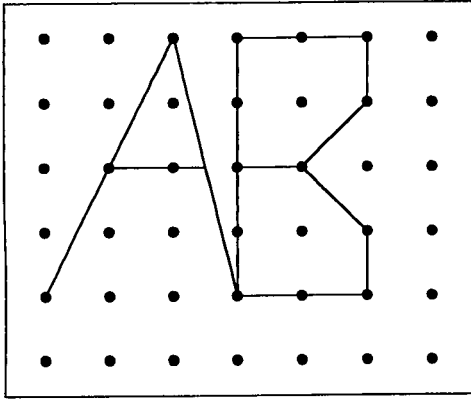
月 日 曜日

制限時間



見本をできるだけ正確に描き写してみよう

◆ 左の見本を右に描き写そう。(定規や消しゴムは使わないように)



点と点を結んで、自由に絵や形を描こう。(定規や消しゴムは使わないように)

