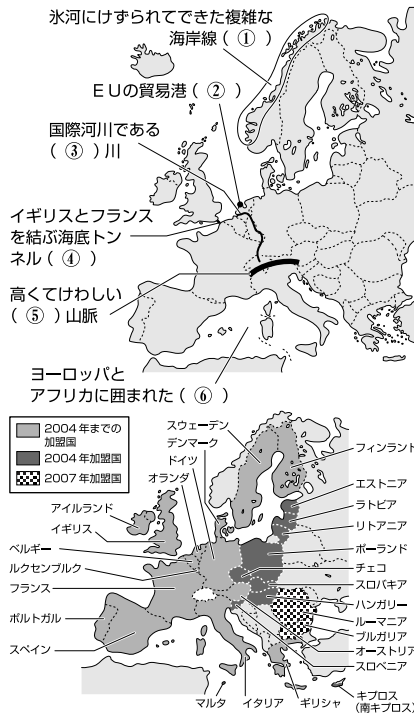


▼ (①)～(⑫)にあてはまる語句を、下の□の中から選びなさい。

ポイント1 ヨーロッパの自然・人々とEU

- (1) 気候…暖流の(⑦)海流と(⑧)風の影響で、高緯度のわりには温和。
- (2) 民族…北方には(⑨)系、南方にはラテン系、東方にはスラブ系の人々が多い。
- (3) (⑩)(ヨーロッパ連合)…EC(ヨーロッパ共同体)から発展して、1993年に発足。ヨーロッパの経済的・政治的統合をめざす。本部はベルギーの(⑪)にある。2002年から一部の加盟国の間で共通通貨(⑫)が流通開始。2007年現在の加盟国数は27か国(2004年に10か国、2007年に2か国が新たに加盟)。



ポイント2 ヨーロッパのおもな国々の特色

- (1) フランス…首都(⑬)などに世界中から観光客が訪れる。EU最大の農業国で、北中部では、小麦や飼料作物を栽培して牛・羊などの家畜を飼う(⑭)農業がさかん。自動車や航空機などを輸出。
- (2) ドイツ…EU最大の工業国。ライン川の水運を利用した(⑮)工業地帯で重工業。大気汚染が原因の(⑯)などの環境問題に対応。
- (3) イタリア…首都(⑰)に古代遺跡。冬に小麦、夏にぶどうやオリーブを栽培する(⑱)式農業がさかん。南北の経済格差が大きい。
- (4) イギリス…首都(⑲)郊外には本初子午線が通る。世界で最初に産業革命がおこる。近年、(⑳)油田の開発で、石油の輸出国となる。
- (5) オランダ…国土の4分の1が(㉑)と呼ばれる干拓地。乳牛を飼って乳製品を生産する(㉒)や園芸農業がさかん。

ロンドン, 酸性雨, ブリュッセル, ユーロトンネル, 地中海式, ルール, ボルダール, 北大西洋, ユーロポート, パリ, ローマ, EU, ライン, 北海, 地中海, 混合, ゲルマン, アルプス, ユーロ, フィヨルド, 偏西, 酪農

解答欄

間違えた問題は、できるようになるまで何回でも復習しよう。

正答数

27

| | | | | | | |
|-------|---|---|---|---|---|---|
| ポイント1 | ① | ② | ③ | ④ | ⑤ | ⑥ |
| | ⑦ | ⑧ | ⑨ | ⑩ | ⑪ | ⑫ |
| ポイント2 | ⑬ | ⑭ | ⑮ | ⑯ | ⑰ | |
| | ⑱ | ⑲ | ⑳ | ㉑ | ㉒ | |

資料から考えよう

よく出る①

| | | |
|-----|-----|-----|
| (1) | (2) | (3) |
|-----|-----|-----|

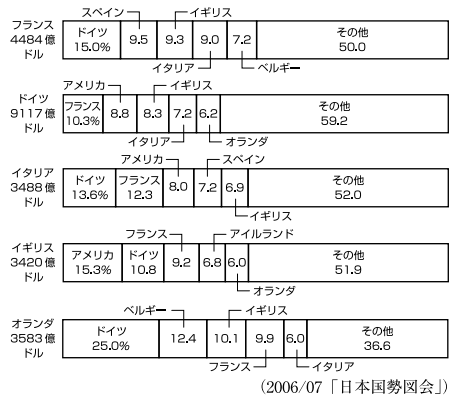
よく出る②

| |
|--|
| |
|--|

資料から考えよう

■ 次のグラフから、EU諸国の輸出相手国には、どのような国々が多いことがわかりますか。簡単に書きなさい。

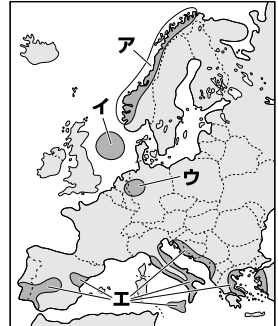
【おもなEU諸国の輸出相手国】(2004年)



よく出る

①

あとの(1)～(3)の文にあてはまる地域を、次の地図中のア～エの中から一つ選び、記号で答えなさい。

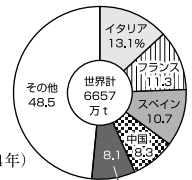


- (1) 乾燥する夏にオリーブなどを栽培している。
- (2) EU最大のルール工業地帯がある。
- (3) 近年、北海油田が開発された。

よく出る

②

右のグラフは、どんな農産物の国別生産量の割合を示していますか。次のア～エの中から一つ選び、記号で答えなさい。



- ア 小麦
- イ オレンジ
- ウ 綿花
- エ ぶどう

(2005/06「世界国勢図会」)