

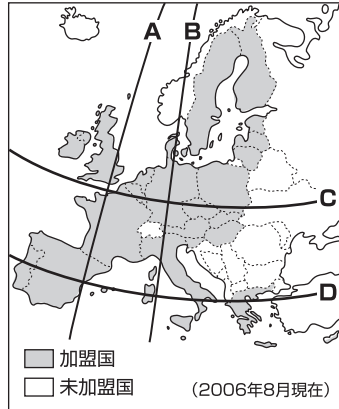
入試実戦問題

① 右の地図を見て、次の問いに答えなさい。(福島改)

(1) 地図中にえがかれている地域は、何という大陸の一部ですか。

大陸

(2) 日本の秋田県・岩手県を通る北緯40度線を、地図中のA～Dの中から一つ選び、記号で答えなさい。



(3) 地図中の の国々が加盟している国際組織について説明した文として最も適当なものを、次のA～Eの中から一つ選び、記号で答えなさい。

- A 石油産出国の利益を守るため結成された。加盟国の石油の大幅な値上げにより石油危機がおきた。
- I NGOとして政治・信条などにかかわる人権問題に取り組んでいる。
- ウ 地域統合をめざして結成された。共通通貨をつくるなど、特に経済的な統合が進んでいる。
- E 当初は東側陣営に対抗するため結成された。近年は旧ユーゴスラビアの紛争に介入した。

② イタリアについて、次の問いに答えなさい。(山口改)

(1) イタリアをはじめ、ヨーロッパの25か国(2006年12月現在)が加盟している国際組織の名称を答えなさい。

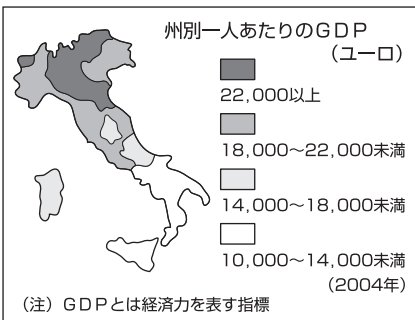
図1



(2) 右の図1・2

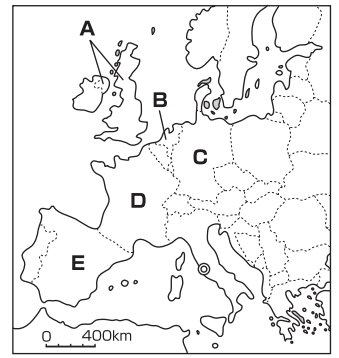
から、プロサッカーチームの本拠地はどのような地域に多く分布していることがわかりますか。簡単に書きなさい。

図2



③ 右の地図を見て、次の問いに答えなさい。(熊本)

(1) 地図中に◎で示したローマには、面積が0.44km²の 市国があります。この国には、キリスト教のサンピエトロ寺院(大聖堂)があります。 にあてはまる語句を答えなさい。



また、キリスト教を国民の大多数が信仰している国を、次のA～Eの中から一つ選び、記号で答えなさい。

A タイ I インド U メキシコ E イラク

語句 記号

(2) 次の表は、わが国と地図中のA～Eのいずれかの国の面積などを比較したものです。表中の にあてはまる国を、地図中のA～Eの中から一つ選び、記号で答えなさい。

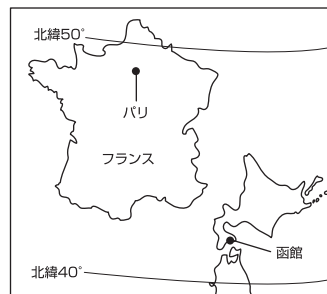
項目 国	面積 (万km ²)	総発電量 (億kWh)	原子力による発電量 (億kWh)	穀物自給率 (%)
日本	37.8	10,972	2,951	24
<input type="text"/>	55.2	5,601	4,368	187

(2005/06「世界国勢図会」)

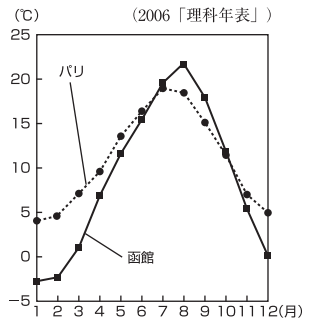
発展

④ 次の資料1はフランスと日本の一部を同緯度・同縮尺で表したものであり、資料2はパリと函館の月別の平均気温を示したものです。資料1・2をもとに下の〈調査結果〉を設定したとき、(A)・(B)にあてはまる内容を、簡単に書きなさい。(長崎)

資料1



資料2



<調査結果>

資料1ではパリは函館より(A)のに、資料2を見ると、なぜパリは函館より(B)。

A

B