

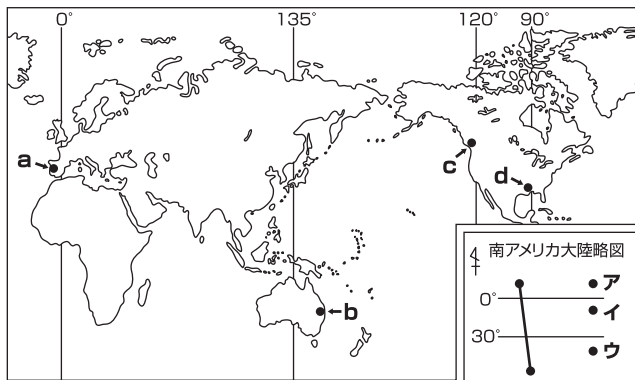
第1回 入試対策テスト

得点

/ 100

1 平成17年に、万国博覧会「愛・地球博」が愛知県内で開催されました。これについて、次の問いに答えなさい。(奈良)

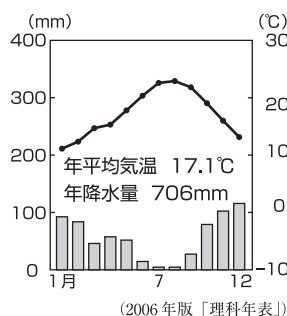
(1) 地図中のa～dは、過去に万国博覧会が開催された都市です。これについて、次の問いに答えなさい。



① 右下の雨温図は、地図中のa～dのいずれかの都市のもので、あてはまる都市を一つ選び、記号で答えなさい。

② 地図中のa～dのうち、日本が3月3日の午前10時のとき、現地時間で3月2日である都市はいくつありますか。

③ 南アメリカ大陸の略図を三角形で描くには、地図中のア～ウのうち、どの点を結べばよいですか。一つ選び、記号で答えなさい。

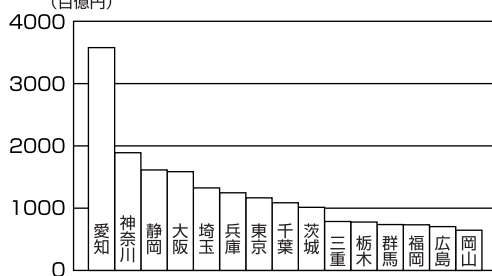


(2006年版「理科年表」)

(2) 愛知県はわが国有数の工業地帯に属し、近年、空港の整備が進められました。これについて、次の問いに答えなさい。

① 右の資料1は、工業製品の年間出荷額の上位15都府県を表したものです。資料1のほとんどの都府県が含まれる、帯状に広がる工業のさかんな地域は何と呼ばれますか。

資料1 (百億円)



(2003年) (2006/07「日本国勢図会」)

② 資料1から読み取ることができる内容として適当なものを、次のア～エの中からすべて選び、記号で答えなさい。

- ア 出荷額が10兆円を超えるのは、6府県である。
- イ 中京工業地帯を構成する県の合計出荷額は、東京都と神奈川県の合計額より大きい。
- ウ 東海工業地域がある県の出荷額は、福岡県の3倍以上である。
- エ 出荷額上位15都府県中に、瀬戸内工業地域を構成する県は2つある。

③ 平成17年に開港した中部国際空港では、台湾・韓国・ホンコン・シンガポールへの航空路が開かれています。急速に工業化したこれらの国や地域をまとめて何といいますか。

(3) 「愛・地球博」では、環境問題について地球市民として考え、行動することの大切さを発信しました。地球市民として考え、行動することはどういうことですか。右の資料2を参考にして、簡単に書きなさい。

資料2



(「愛・地球博」のホームページ)

1 37点((3)は7点, その他は5点)

(1)	①	
	②	つ
	③	
(2)	①	
	②	
	③	
(3)		