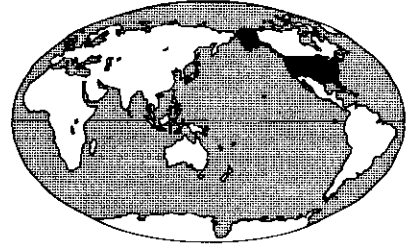
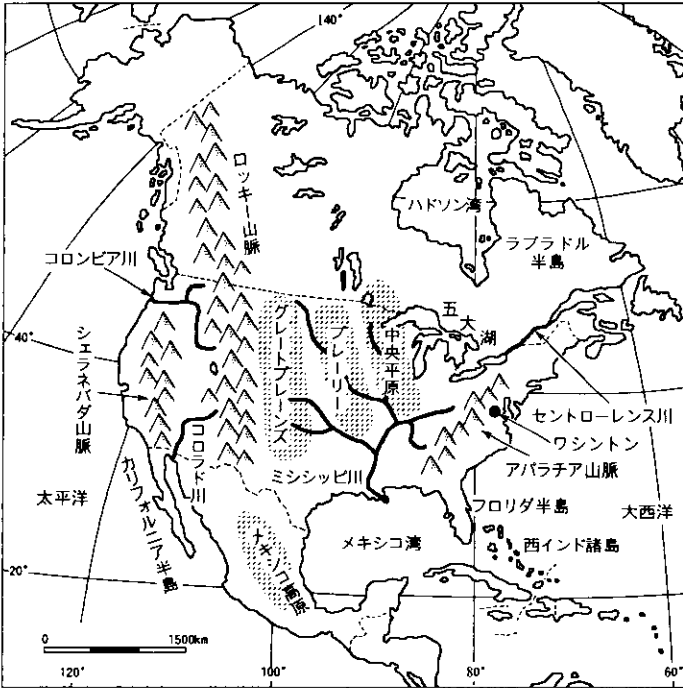


# 12. アメリカ合衆国



私たちにとって、アメリカは大変なじみの深い国で、身のまわりにはアメリカで生まれたものがたくさんあります。ここでは、アメリカがどのような国で、どのような問題をかかえているかを学びます。

## 1. 自然と国土



アングロアメリカとは、アングロ系のイギリス人が開拓した、アメリカ合衆国とカナダのこと。  
ラテンアメリカとは、ラテン系のスペイン人が開拓した、メキシコ以南のこと。

### 1 なりたち

1776年に東部13州がイギリスから独立した。しだいにフロンティア（開拓の最前線地域）を東に広げ、現在はアラスカ、ハワイを含めて50州からなる。（首都・ワシントン）

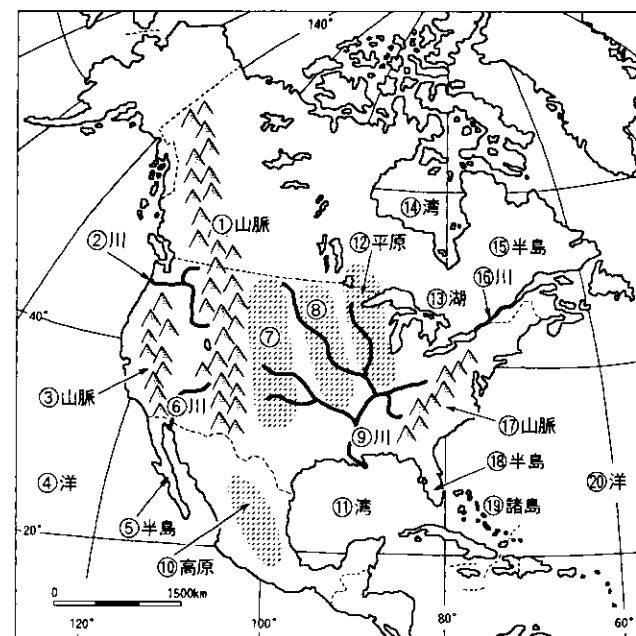
### 2 地形

- ① 西部 …高くけわしいロッキー山脈。
- ② 中央部 …放牧地帯のグレートプレーンズ。小麦地帯のプレーリー。南に流れるミシシッピ川。とうもろこし地帯の中央平原。
- ③ 東部 …カナダとの国境に五大湖。低くならかなアパラチア山脈。

### 3 人種と民族→人種のサラダボウル

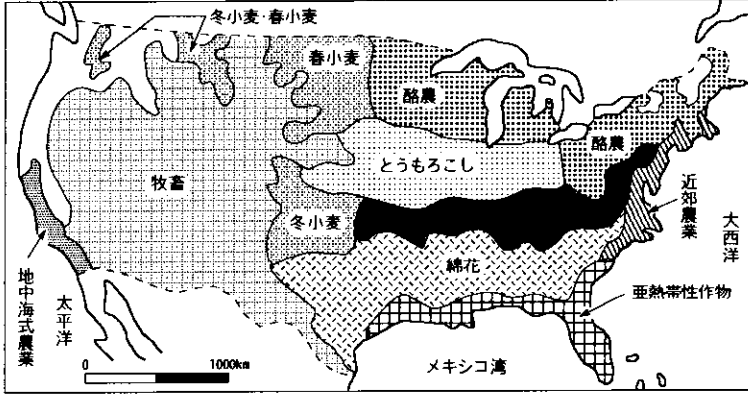
- ① 先住民 …インディアンやイヌイット。
- ② 白人 …ヨーロッパからの移民の子孫。
- ③ 有色人種 …黒人(アフリカ人奴隷の子孫)。黄色人種。
- ④ ヒスパニック …スペイン語系の人々。

**TRY!** 左の地図について、①～⑳に適切な地名や地域などを記入しなさい。



- |            |            |
|------------|------------|
| ① _____ 山脈 | ② _____ 川  |
| ③ _____ 山脈 | ④ _____ 洋  |
| ⑤ _____ 半島 | ⑥ _____ 川  |
| ⑦ _____    | ⑧ _____    |
| ⑨ _____ 川  | ⑩ _____ 高原 |
| ⑪ _____ 湾  | ⑫ _____ 平原 |
| ⑬ _____ 湖  | ⑭ _____ 湾  |
| ⑮ _____ 半島 | ⑯ _____ 川  |
| ⑰ _____ 山脈 | ⑱ _____ 半島 |
| ⑲ _____ 諸島 | ⑳ _____ 洋  |

# 2. 農業



## 1 世界の食料庫

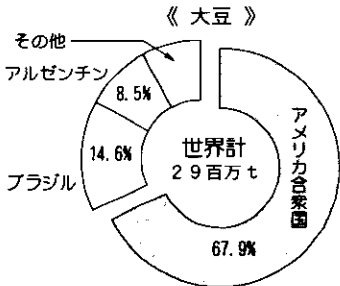

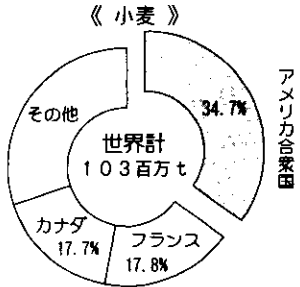
アメリカは農業がさかんである。特に小麦、大豆、とうもろこしなどの輸出量は世界最大で、「世界の食料庫」といわれている。

## 2 適地適作

アメリカでは、広大な耕地を適地適作<sup>\*1</sup>で、大規模な機械化農業を行っている。

- ① カリフォルニア地方 …地中海式農業。
- ② グレートプレーンズ …放牧。
- ③ プレーリー …小麦（北部が春小麦<sup>\*1</sup>，南部が冬小麦<sup>\*2</sup>）。
- ④ 五大湖周辺 …酪農。
- ⑤ ミシシッピ川中流域 …とうもろこし。
- ⑥ ミシシッピ川下流域 …綿花。
- ⑦ メキシコ湾岸からフロリダ半島 …さとうきびや野菜，くだもの，米など。（亜熱帯性作物）

### ■ 世界の農作物の輸出にしめる米国の割合 (1993年)



### \* 適地適作

アメリカ各地の気候や土壌にあった作物を集中的に栽培する農業のやり方。

### \* 春小麦と冬小麦

春小麦は、春に種をまき初夏に収穫する小麦で、おもに冷帯の地域で栽培される。

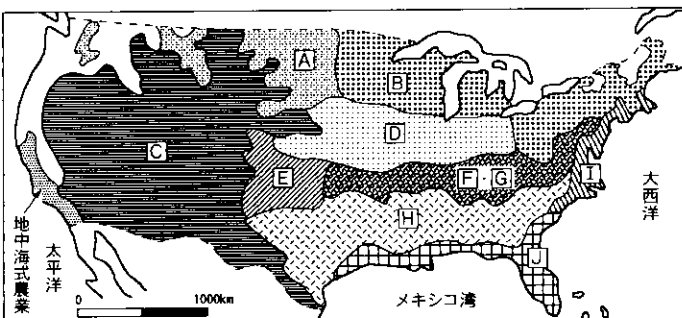
冬小麦は、秋に種をまき春に収穫する小麦で、おもに温帯の地域で栽培される。

### ■ アメリカの農作物のようす

地中海式農業	移牧	(春)	酪農	近郊農業
		小麦	とうもろこし	
		(冬)	小麦・とうもろこし	
			綿花	
			亜熱帯性作物	

## TRY 2

次の地図について、A～Jに農産物名や適当な語句を記入しなさい。



- A \_\_\_\_\_
- B \_\_\_\_\_
- C \_\_\_\_\_
- D \_\_\_\_\_
- E \_\_\_\_\_
- F \_\_\_\_\_
- G \_\_\_\_\_
- H \_\_\_\_\_
- I \_\_\_\_\_
- J \_\_\_\_\_

# 12 アメリカ合衆国 チェックテスト

一問一答

得点

/100

■ 次の（ ）に適切な語句を記入しなさい。

5点×20

1. アメリカ合衆国は、1776年に東部13州が（ ）から独立して建国した。
2. アメリカ合衆国の西側には高くけわしい（ ）山脈がのびている。
3. アメリカ合衆国の東側には低くなだらかな（ ）山脈がのびている。
4. アメリカ合衆国には多くの人種や民族が住み、人種の（ ）とよばれている。
5. おもにイギリス人が開拓したアメリカとカナダを（ ）アメリカという。
6. 各地の気候や土壌にあった作物を集中的に栽培する農業を（ ）という。
7. カリフォルニア地方では（ ）式農業が行われている。
8. アメリカは農業がさかんで、世界の（ ）とよばれている。
9. アメリカ中央部のプレーリーは世界有数の（ ）地帯である。
10. 五大湖からメキシコ湾にかけて、酪農→とうもろこし→（ ）→亜熱帯性作物の順で農業地帯が広がる。
11. アメリカ合衆国の東部には（ ）炭田が広がっている。
12. スペリオール湖西岸には、アメリカ合衆国最大の（ ）鉄山がある。
13. デトロイトでは（ ）工業がさかんである。
14. 北緯37度以南の（ ）では、石油化学や電子工業が発達している。
15. 国境をこえて世界各地に工場をつくり、その土地の資源や労働力を使って生産する巨大企業を（ ）とよぶ。
16. 東部のボストンからワシントンにかけて広がる巨大都市群を（ ）とよぶ。
17. 巨大都市では都心の人口が減少し郊外で増加する（ ）現象がおこっている。
18. アメリカ合衆国最大の都市である（ ）には、国際連合の本部がおかれ、ウォール街は世界の金融の中心である。
19. アメリカの通貨であるドルは貿易などの取り引きで最も多く使われ、実質的に（ ）となっている。
20. アメリカ合衆国は、日本に対して輸入の拡大や貿易の自由化を求め、（ ）がおこっている。

1

2

3

4

5

6

7

8

9

10

11

12

13

14

15

16

17

18

19

20

# 12 アメリカ合衆国

アメリカ合衆国

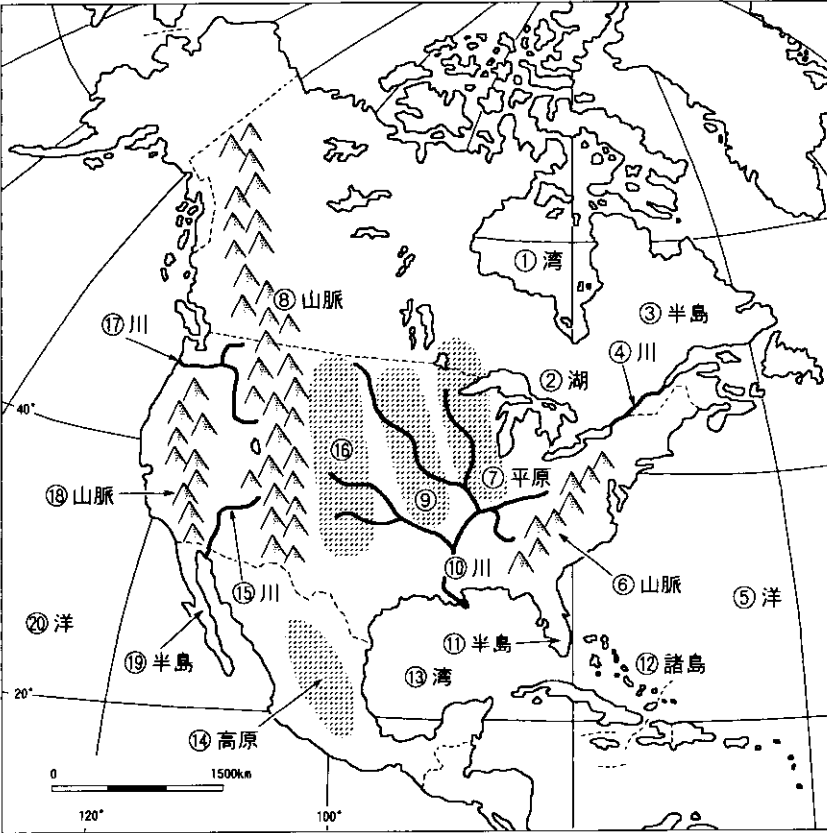
図・表で  
チェック

得点

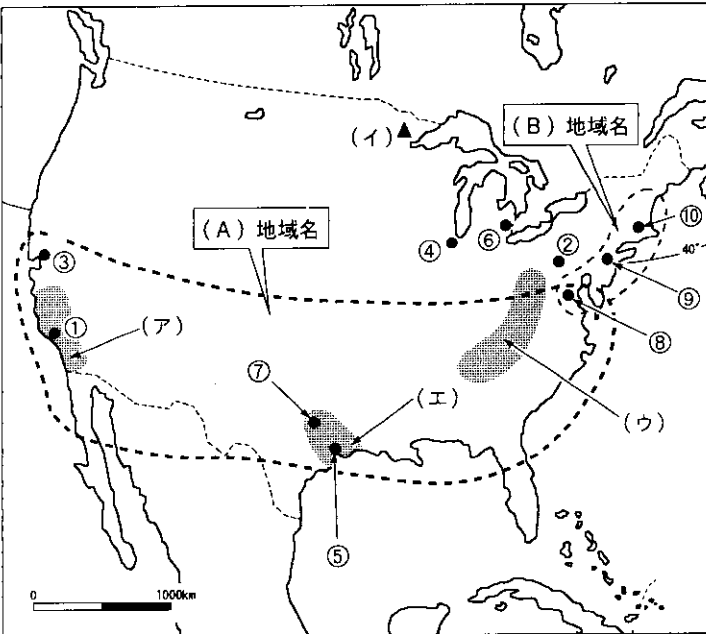
/72

1 次の地図について、①～⑭に適切な地名や地域などを記入しなさい。

2点×20



- ① \_\_\_\_\_ 湾
- ② \_\_\_\_\_ 湖
- ③ \_\_\_\_\_ 半島
- ④ \_\_\_\_\_ 川
- ⑤ \_\_\_\_\_ 洋
- ⑥ \_\_\_\_\_ 山脈
- ⑦ \_\_\_\_\_ 平原
- ⑧ \_\_\_\_\_ 山脈
- ⑨ \_\_\_\_\_
- ⑩ \_\_\_\_\_ 川
- ⑪ \_\_\_\_\_ 半島
- ⑫ \_\_\_\_\_ 諸島
- ⑬ \_\_\_\_\_ 湾
- ⑭ \_\_\_\_\_ 高原
- ⑮ \_\_\_\_\_ 川
- ⑯ \_\_\_\_\_
- ⑰ \_\_\_\_\_ 川
- ⑱ \_\_\_\_\_ 山脈
- ⑲ \_\_\_\_\_ 半島
- ⑳ \_\_\_\_\_ 洋



2 左の地図について、①～⑩には地名、( )には適切な語句を下の語群から選び記入しなさい。またA、Bには地域名、ア～エには鉄山・油田・炭田名を書きなさい。2点×16

- ① \_\_\_\_\_ ( )
- ② \_\_\_\_\_ ( )
- ③ \_\_\_\_\_ ( )
- ④ \_\_\_\_\_ ( )
- ⑤ \_\_\_\_\_ ( )
- ⑥ \_\_\_\_\_ ( )
- ⑦ \_\_\_\_\_ ( )
- ⑧ \_\_\_\_\_
- ⑨ \_\_\_\_\_
- ⑩ \_\_\_\_\_
- A \_\_\_\_\_ B \_\_\_\_\_
- ア \_\_\_\_\_ イ \_\_\_\_\_
- ウ \_\_\_\_\_ エ \_\_\_\_\_

宇宙産業・自動車・電子工業  
食品・石油化学・鉄鋼