

チェックテスト

2B

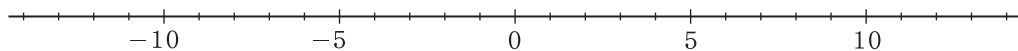
正の数・負の数の加法, 減法の基本

得点

/ 100

1 数直線を使って, 次の計算をしなさい。

ステップ 1



① $4 + 5$

4より5大きい数

② $(-3) + 11$

-3より11大きい数

③ $(-12) + 7$

-12より7大きい数

④ $(-8) + 8$

-8より8大きい数

⑤ $9 - 8$

9より8小さい数

⑥ $2 - 7$

2より7小さい数

⑦ $(-1) - 4$

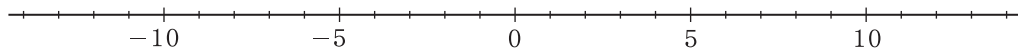
-1より4小さい数

⑧ $(-3) - 6$

-3より6小さい数

2 数直線を参考にして, 次の計算をしなさい。

ステップ 2



① $(+6) + (+1)$

$= 6 + 1$

② $(+13) - (+9)$

$= 13 - 9$

③ $(+4) - (+11)$

$= 4 - 11$

④ $(-2) + (+6)$

$= (-2) + 6$

⑤ $(-10) + (+5)$

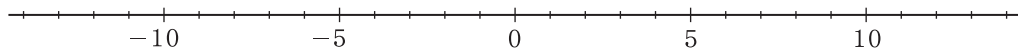
$= (-10) + 5$

⑥ $(-1) - (+7)$

$= (-1) - 7$

3 数直線を参考にして, 次の計算をしなさい。

ステップ 3



① $(+4) + (-8)$

$= 4 - 8$

② $(+6) + (-3)$

$= 6 - 3$

③ $(+7) - (-7)$

$= 7 + 7$

④ $(-5) + (-6)$

$= (-5) - 6$

⑤ $(-8) - (-10)$

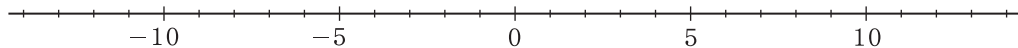
$= (-8) + 10$

⑥ $(-12) - (-12)$

$= (-12) + 12$

4 次の式を, まず()のない式になおし, 数直線を参考にして計算しなさい。

ステップ 4



① $(+2) + (+8)$

$= 2 + 8$

② $(-7) + (-4)$

$= -7 - 4$

③ $(-5) - (+4)$

$= -5 - 4$

④ $(-3) - (-10)$

$= -3 + 10$

⑤ $(-1) - (-8) + (-7)$

$= -1 + 8 - 7$

1

4点×8

①

9

②

8

③

-5

④

0

⑤

1

⑥

-5

⑦

-5

⑧

-9

2

4点×6

①

7

②

4

③

-7

④

4

⑤

-5

⑥

-8

3

4点×6

①

-4

②

3

③

14

④

-11

⑤

2

⑥

0

4

4点×5

①

10

②

-11

③

-9

④

7

⑤

0