

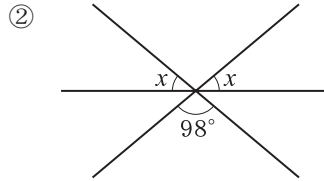
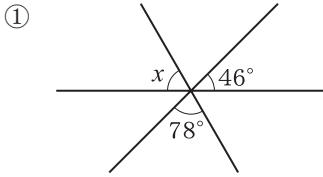
チェックテスト 15B 平行線と角

得点

/ 100

1 次の図で、 $\angle x$ の大きさを求めなさい。

ステップ 1



1

7点×2

① _____

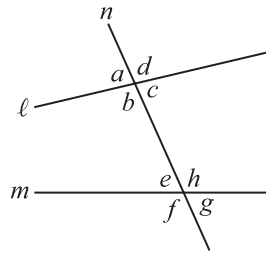
② _____

2 右の図のように、2直線 l, m に1つの直線 n が交わってできる角について、次の問いに答えなさい。

ステップ 2

① $\angle b$ の錯角はどれか。

② $\angle d$ と $\angle h$ の位置にある角を何というか。



2

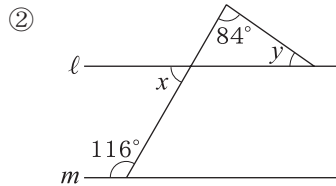
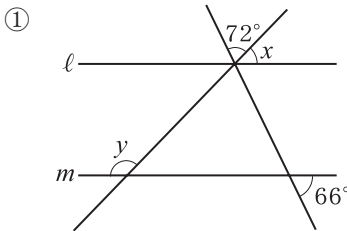
7点×2

① _____

② _____

3 次の図で、 $l \parallel m$ のとき、 $\angle x, \angle y$ の大きさを求めなさい。

ステップ 3



3

7点×4

① $\angle x =$ _____

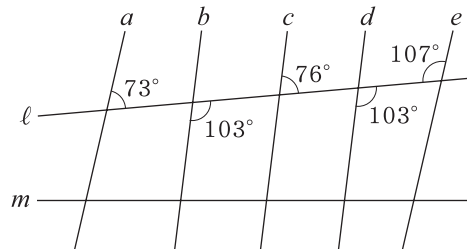
$\angle y =$ _____

② $\angle x =$ _____

$\angle y =$ _____

4 右の図で、平行である直線の組みを、記号 \parallel を使って表しなさい。

ステップ 3

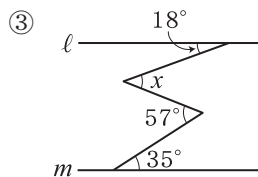
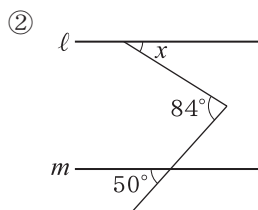
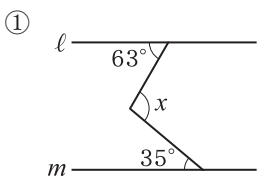


4

7点×2

5 次の図で、 $l \parallel m$ のとき、 $\angle x$ の大きさを求めなさい。

ステップ 3



5

10点×3

① _____

② _____

③ _____