

# チェックテスト

## 32A

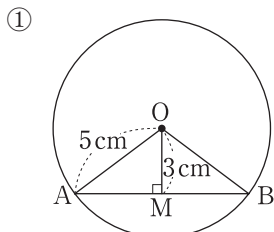
### 三平方の定理と平面図形

得点

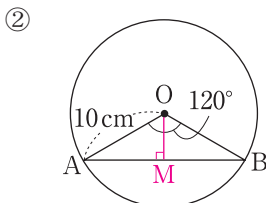
/ 100

1 次の図で、弦ABの長さを求めなさい。

ステップ 1



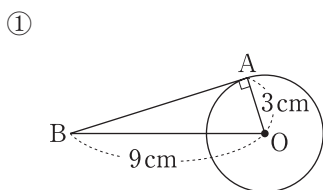
$AM = \sqrt{5^2 - 3^2} = \sqrt{16} = 4 \text{ (cm)}$   
よって、 $AB = 2AM = 8 \text{ (cm)}$



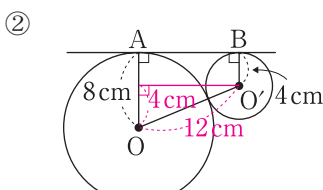
ABの中点をMとすると、  
 $\angle AMO = 90^\circ$ ,  $\angle AOM = 60^\circ$   
 $AM : 10 = \sqrt{3} : 2$ より、 $AM = 5\sqrt{3} \text{ (cm)}$   
よって、 $AB = 2AM = 10\sqrt{3} \text{ (cm)}$

2 次の図で、線分ABの長さを求めなさい。

ステップ 1



$AB = \sqrt{9^2 - 3^2} = \sqrt{72} = 6\sqrt{2} \text{ (cm)}$

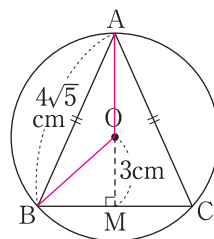


$8 - 4 = 4$ ,  $8 + 4 = 12$ より、  
 $AB = \sqrt{12^2 - 4^2} = \sqrt{128} = 8\sqrt{2} \text{ (cm)}$

3 右の図のように、円Oの内側に、 $AB = AC = 4\sqrt{5} \text{ cm}$ の二等辺三角形ABCが接している。中心Oと辺BCとの距離が3 cmであるとき、円Oの半径を求めなさい。

ステップ 1

$OA = OB = x \text{ cm}$ とすると、  
 $\triangle OBM$ において、 $BM^2 = x^2 - 3^2$   
また、 $\triangle ABM$ において、 $BM^2 = (4\sqrt{5})^2 - (x+3)^2$   
よって、 $x^2 - 9 = 80 - (x^2 + 6x - 9)$   
これを解いて、 $x = 5, -8$   
 $x > 0$ より、 $x = 5$



4 次の2点間の距離を求めなさい。

ステップ 2

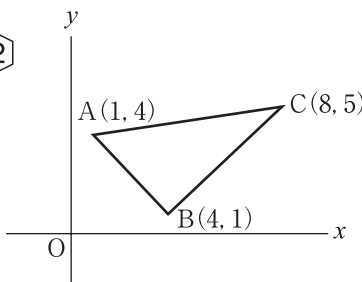
① (1, 3), (4, 8)    ② (-1, -4), (3, 6)    ③ (2, -1), (-3, 4)  
 $\sqrt{(4-1)^2 + (8-3)^2} = \sqrt{34}$      $\sqrt{(3-(-1))^2 + (6-(-4))^2} = 2\sqrt{29}$      $\sqrt{(2-(-3))^2 + (-1-4)^2} = 5\sqrt{2}$

5 右の図の△ABCについて、次の問いに答えなさい。

ステップ 2

① AB, BC, ACの長さをそれぞれ求めなさい。

$AB = \sqrt{(4-1)^2 + (1-4)^2} = 3\sqrt{2}$   
 $BC = \sqrt{(8-4)^2 + (5-1)^2} = 4\sqrt{2}$   
 $AC = \sqrt{(8-1)^2 + (5-4)^2} = 5\sqrt{2}$



② △ABCの面積を求めなさい。

$AB^2 + BC^2 = (3\sqrt{2})^2 + (4\sqrt{2})^2 = 50$   
 $AC^2 = (5\sqrt{2})^2 = 50$ より、△ABCは $\angle ABC = 90^\circ$ の直角三角形となる。  
よって、 $\frac{1}{2} \times 3\sqrt{2} \times 4\sqrt{2} = 12$

1 10点×2

① 8 cm  
②  $10\sqrt{3} \text{ cm}$

2 10点×2

①  $6\sqrt{2} \text{ cm}$   
②  $8\sqrt{2} \text{ cm}$

3 10点

5 cm

4 10点×3

①  $\sqrt{34}$   
②  $2\sqrt{29}$   
③  $5\sqrt{2}$

5 10点×2, ①完答

① AB  $3\sqrt{2}$   
BC  $4\sqrt{2}$   
AC  $5\sqrt{2}$   
② 12